


2年生 かけ算⑬

ねらい 「〇cmの△倍」と、長さもかけ算の式で表すことができる

◆ 4 cmのリボンをつなげます。




4 cmの3ばいの長さは何^{なん} cmですか。

しき $4 \text{ cm} \times 3 \text{ ばい} = 12$

答え 12 cm

【もんだい】

① 2 cmのリボンをつなげます。

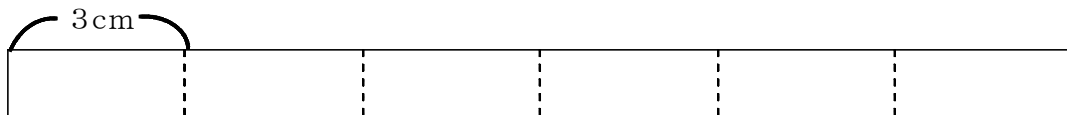


2 cmの5ばいの長さは何^{なん} cmですか。

しき

答え _____

② 3 cmのリボンをつなげます。



3 cmの6ばいの長さは何^{なん} cmですか。

しき

答え _____