


2年生 かけ算①

ねらい 絵を見てかけ算の問題場面を理解することができる

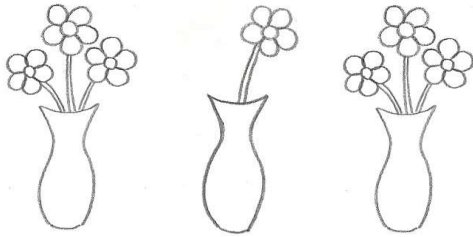
◆絵を見て、ぜんぶの数が、かけ算でもとめられるものには○、もとめられないものには×を（ ）に書きましょう。

①はこの数（ ○ ）



ふくろの中はこの数がおなじだから、かけ算でぜんぶの数がもとめられる。

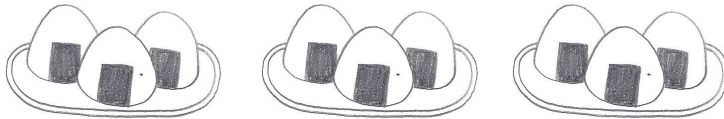
②花の数（ × ）




花びんの中の花の数がちがうから、かけ算でぜんぶの数はもとめられない。

【もんだい】絵を見て、かけ算でもとめられるものには○、もとめられないものには×を（ ）に書きましょう。

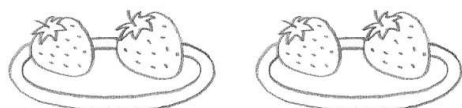
①おにぎりの数（ ）



②スイカの数（ ）



③いちごの数（ ）



ねん くみ ばん なまえ